



IME I PREZIME: \_\_\_\_\_

## RL 1 (141. sat)

1. Likove oboji zadanim bojama.




Prebroji likove.

Napiši koliko ih ima.



ima \_\_\_\_\_.



ima \_\_\_\_\_.



ima \_\_\_\_\_.



ima \_\_\_\_\_.

- 
2. Mila je imala sličice životinja koje je dobila u prodavaonici malih kućnih ljubimaca. Lara joj je dala još 9 sličica pa ih Mila sada ima 17. Koliko je sličica imala Mila prije nego što je dobila sličice od Lare?

PODATCI:

RAČUN:

ODGOVOR: \_\_\_\_\_

- 
3. Petar ima 8 pikula. Koliko pikula ima Milka ako zajedno imaju 19 pikula?

PODATCI:

RAČUN:

ODGOVOR: \_\_\_\_\_

- 
4. Dario je kupio lopticu za picigin. Dao je prodavaču 20 kuna. Koliko je stajala loptica ako je prodavač vratio Dariju 7 kuna?

PODATCI:

RAČUN:

ODGOVOR: \_\_\_\_\_

- 
5. Miran i Tina gađali su čunjeve. Tina je srušila 9 čunjeva, a Miran isto toliko.

Koliko su čunjeva njih dvoje zajedno srušili?

PODATCI:

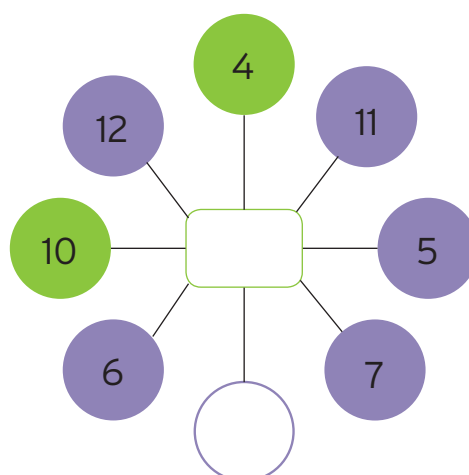
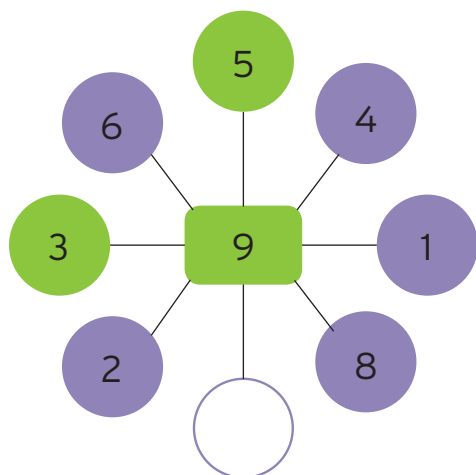
RAČUN:

ODGOVOR: \_\_\_\_\_



---

5. Upiši brojeve koji nedostaju.



---

6. Zaokruži zadatke čiji je zbroj jednak broju 20.

$5 + 6 + 8$

$4 + 7 + 9$

$11 + 3 + 4$

$15 + 0 + 4$

$2 + 4 + 7$

$8 + 11 + 0$

$13 + 4 + 3$

$16 + 1 + 2$

---

7. Jedna patka snijela je 6 jaja, a druga 8 jaja.

Koliko će pataka biti ukupno ako se iz svih jaja izlegu pačiči?

PODATCI:

RAČUN:

ODGOVOR: \_\_\_\_\_

---

8. Ivan za zadaću treba riješiti 12 zadataka.

Danas je riješio posljednja tri zadatka.

Koliko je zadataka riješio prije toga?

PODATCI:

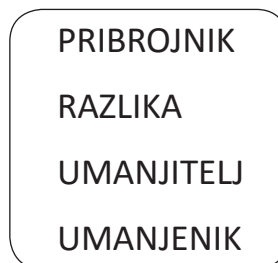


RAČUN:

ODGOVOR: \_\_\_\_\_


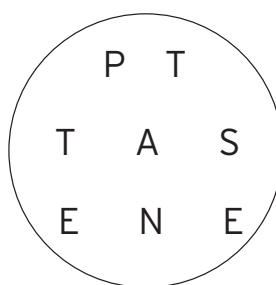
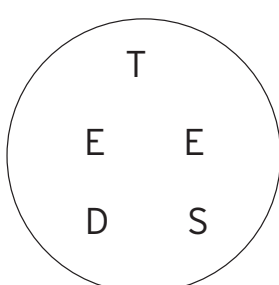
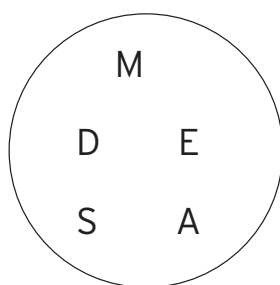
IME I PREZIME: \_\_\_\_\_

## RL 3 (143. sat)

1. Izbaci uljeza tako da u svakom okviru prekrižiš ono što mu ne pripada.

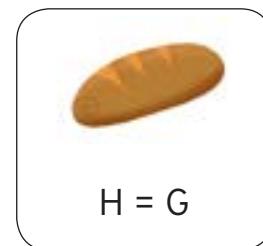



2. Sastavi riječ od ponuđenih slova u krugu. Napiši riječ na crtu ispod kruga.



\_\_\_\_\_

3. Riješi rebus.
















\_\_\_\_\_

4. Pronađi skrivene brojeve u svakom retku i zaokruži ih.

DANDVAKUĆASAMOSAMKREVETDEVET  
 JEDNAKOMANJEDESETJADANJEDAN  
 STOLSTOŠESTSEDAMNEDAMBRODBROJ

5. Koji se broj krije iza svake sličice? Napiši ga u kvadratić.

3 +  = 15	 = <input type="text"/>
 -  = 4	 = <input type="text"/>
 +  = 	 = <input type="text"/>
 -  = 	 = <input type="text"/>

6. Popuni tablicu tako da otkriješ koje slovo nedostaje u svakom stupcu.

	Č		U				U		
	E		M				M		
	T		A		D		A		
	I	D	NJ	T	V		B	NJ	
E	I	A	T	I		B	O	N	E
T		N	E			R	J	I	S
I		A	LJ			O		K	E
C		E				J			T
A		S							I
		T							C
									A